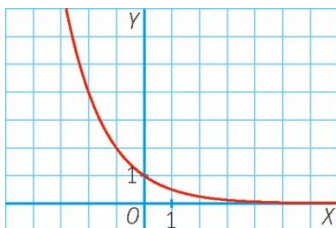


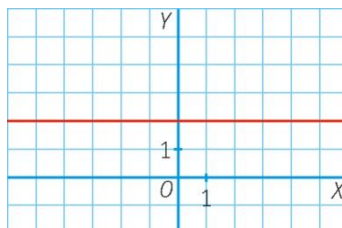


1. Identifica las funciones crecientes, decrecientes o constantes entre las siguientes.

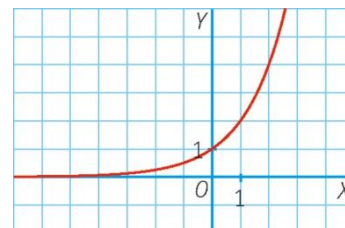
a)



b)

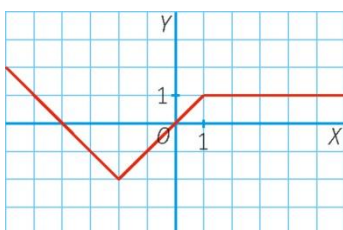


c)

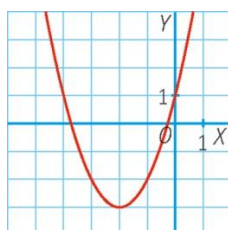


2. Estudia los intervalos de crecimiento y decrecimiento de las siguientes funciones.

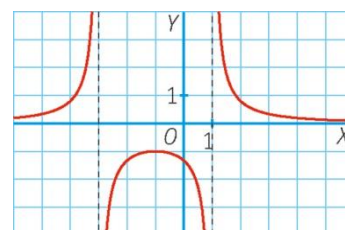
a)



b)

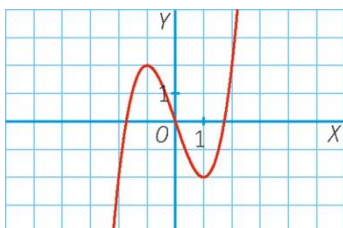


c)

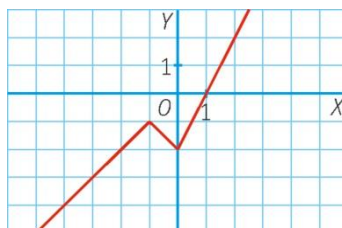


3. Estudia los extremos de las siguientes funciones.

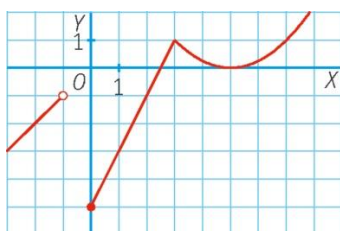
a)



b)



4. Estudia el dominio, crecimiento, decrecimiento y extremos de la siguiente función.



5. Indica el crecimiento, decrecimiento y extremos relativos y absolutos de la siguiente función.

